



**EVALUAREA COMPETENȚELOR FUNDAMENTALE
LA FINALUL CLASEI a II-a
2023**

Test 2

MATEMATICĂ

Județul / sectorul.....

Localitatea.....

Școala.....

Numele și prenumele elevei / elevului.....

.....

Clasa a II-a.....


Băiat

Fată

5. Irina a pregătit, pentru colegii săi, 21 de fotografii cu elefanți și de 3 ori mai puține fotografii cu iepuri. Câte fotografii cu iepuri a pregătit Irina?

Calculează prin scădere repetată a aceluiași număr.

Scrie, pe spațiul dat, rezolvarea problemei.



Nu se completează de către elev
COD

5.

6. Cosmin le-a prezentat colegilor săi o planșă cu câteva informații despre girafă.

Cu ce figură geometrică se aseamănă planșa realizată de Cosmin?

Încercuiește litera corespunzătoare răspunsului corect.

- a) cerc
- b) dreptunghi
- c) pătrat
- d) triunghi






Girafa este cea mai înaltă dintre toate speciile de animale. Masculii pot avea între 4,8 m și 5,5 m înălțime și o greutate de 900 de kg. Numele ei înseamnă „cea mai înaltă dintre toate”. Girafa trăiește în Africa.

Nu se completează de către elev
COD

6.

7. Pentru a se juca, Maria a așezat fotografiile cu animalele preferate ca în șirul de mai jos. Ce fotografii urmează în șir?

Încercuiește litera corespunzătoare răspunsului corect.



Nu se completează de către elev
COD

7.

8. Vlad a ales 15 fotografii cu animalele sale preferate și a dat câte 3 fotografii prietenilor săi. Câți copii au primit fotografii?

Încercuiește litera corespunzătoare răspunsului corect.

- a) 3 copii
- b) 5 copii
- c) 12 copii
- d) 18 copii

Nu se completează de către elev
COD

8.

9. Irina le-a arătat celorlalți copii fotografia de mai jos, în care este prezentat un arici, animalul său preferat. În ce parte a fotografiei se află ariciul?

Încercuiește litera corespunzătoare răspunsului corect.

- a) în dreapta jos
- b) în dreapta sus
- c) în stânga jos
- d) în stânga sus




Nu se completează de către elev
COD

9.

10. Fiecare copil a lipit câte o imagine cu animalul preferat pe cartonașe de forme diferite.

Scrie, în spațiul dat, numele formei geometrice pe care o are cartonașul pe care este lipită imaginea cu un iepure.



Cartonașul pe care este lipită imaginea cu un iepure are formă de _____.

Nu se completează de către elev
COD

10.

