



**EVALUAREA COMPETENȚELOR FUNDAMENTALE  
LA FINALUL CLASEI a II-a  
2023**

**Test 1**

**MATEMATICĂ**

**Județul / sectorul.....**

**Localitatea.....**

**Școala.....**

**Numele și prenumele elevei / elevului.....**

.....

**Clasa a II-a.....**

**Băiat**

**Fată**








5. Corina a pregătit, pentru colegii săi, 24 de fotografii cu căprioare și de 4 ori mai puține fotografii cu girafe. Câte fotografii cu girafe a pregătit Corina?

**Calculează prin scădere repetată a aceluiași număr.**

**Scrie, pe spațiul dat, rezolvarea problemei.**




Nu se completează de către elev  
COD

5.

6. Andrei le-a prezentat colegilor săi o planșă cu câteva informații despre elefant.

**Cu ce figură geometrică se aseamănă planșa realizată de Andrei?**

**Încercuiește litera corespunzătoare răspunsului corect.**



**Elefantul este cel mai mare și cel mai greu animal din lume.  
El consumă 250 kg de mâncare și bea în jur de 190 l de apă în fiecare zi.  
Elefantul are 2 colți din fildeș, din care se fac bijuterii deosebit de frumoase.  
El are o memorie foarte bună.**

- a) cerc
- b) dreptunghi
- c) pătrat
- d) triunghi

Nu se completează de către elev  
COD

6.

7. Pentru a se juca, Corina a așezat fotografiile cu animalele preferate ca în șirul de mai jos. Ce fotografii urmează în șir?

**Încercuiește litera corespunzătoare răspunsului corect.**



Nu se completează de către elev  
COD

7.

8. Răzvan a ales 12 fotografii cu animalele sale preferate și a dat câte 3 fotografii prietenilor săi. Câți copii au primit fotografiile?

**Încercuiește litera corespunzătoare răspunsului corect.**

- a) 3 copii
- b) 4 copii
- c) 9 copii
- d) 15 copii

Nu se completează de către elev  
COD

8.

9. Ioana le-a arătat celorlalți copii fotografia de mai jos, în care este prezentată o maimuță, animalul său preferat. În ce parte a fotografiei se află maimuța?

**Încercuiește litera corespunzătoare răspunsului corect.**

- a) în dreapta jos
- b) în dreapta sus
- c) în stânga jos
- d) în stânga sus





Nu se completează de către elev  
COD

9.

10. Fiecare copil a lipit câte o imagine cu animalul preferat pe cartonașe de forme diferite.

**Scrive, în spațiul dat, numele formei geometrice pe care o are cartonașul pe care este lipită imaginea cu o vulpe.**



Cartonașul pe care este lipită imaginea cu o vulpe are formă de \_\_\_\_\_.

Nu se completează de către elev  
COD

10.

11. Ioana a citit din carte, într-o zi, de la ora 8:00 până la ora 10:00. Câte ore a citit ea în acea zi?

**Încercuiește litera corespunzătoare răspunsului corect.**

- a) 2 ore
- b) 3 ore
- c) 10 ore
- d) 18 ore

Nu se completează de către elev  
COD

11.

12. Copiii au notat, în tabel, câți litri de apă bea, într-o zi, fiecare dintre următoarele animale:


Girafa	Zebra	Cămila	Elefantul
40 de litri	14 litri	100 de litri	190 de litri

Ei consideră că, în fiecare zi, la Grădina Zoologică, se folosesc 350 de litri de apă pentru 1 girafă, 2 zebre, 1 cămilă și 1 elefant. Crezi că au dreptate?

**Explică, în spațiul dat, răspunsul tău.**

**Da**, pentru că \_\_\_\_\_

**Nu**, pentru că \_\_\_\_\_



Nu se completează de către elev  
COD

**FELICITĂRI, AI AJUNS LA SFÂRȘITUL TESTULUI!**  
**MULȚUMIM PENTRU PARTICIPARE!**

12.